

▶ EL JABLE DE ARRIBA

CAMINO REAL DE SOO A LA VILLA DE TEGUISE
DEJANDO HUELLA

2º ESO

CUADERNO DE CAMPO

Nombre y Apellidos

Fecha:

Durante las próximas horas vamos a recorrer parte del Camino Real de Soo a la Villa de Teguiise, en un espacio protegido y de especial interés paisajístico e histórico. Para aprovechar la salida de campo nos valdremos de este cuaderno.

Trátalo con cuidado, ya que a través del él iremos descubriendo diferentes aspectos que caracterizan a este camino y su paisaje, así como los usos y costumbres que se han desarrollado a través de él y en sus márgenes desde los antiguos majos hasta la actualidad.

Tenemos que tener presente que para esta experiencia en grupo sea de provecho hemos de mantener unas normas:

1. Debemos de mantener el grupo unido y atenderá la explicaciones de quien guíe el recorrido.
2. No debemos salirnos del trazado del camino a no ser que el profesor así lo indique. Estamos en un espacio de protección especial para aves.
3. Durante la visita, además de este cuaderno, es conveniente utilizar en la salida los mapas que hemos elaborado sobre la toponimia del lugar (o planos de Grafcan).
4. Durante la explicación en el yacimiento arqueológico de La Peña de las Cucharas elaboraremos una serie de preguntas y actividades relacionadas con el mundo aborigen y el método arqueológico. No está permitido salirse del trazado del paso establecido para la visita ni llevarse ningún material arqueológico del suelo.
5. Para comer hay un lugar y una hora determinada, después del trabajo de estudio. Así no dejaremos basuras por el recorrido.
6. Como conclusión, debemos recordar que: este espacio natural debemos dejarlo tal y como lo encontramos, sin dejar rastros ni restos de nuestra presencia.



EL JABLE DE ARRIBA

CAMINO REAL DE SOO A LA VILLA DE TEGUISE
DEJANDO HUELLA

Del norte hacia el sur, empezando desde Famara, la atraviesan montículos de arena, los cuales (del mismo modo que las arenas líbicas) son llevados por el viento septentrional"

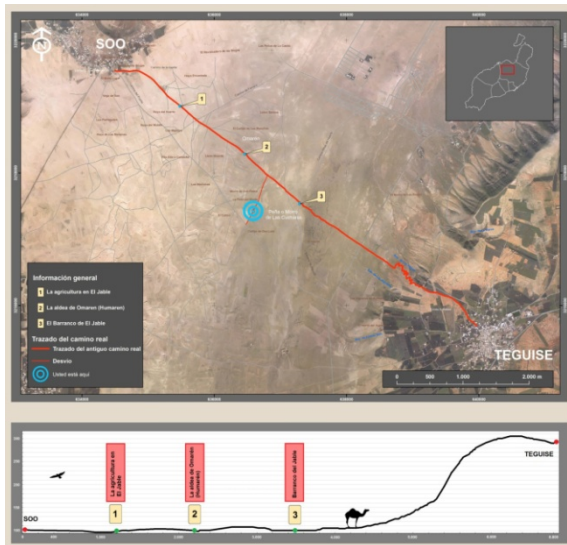
Leonardo Torriani Siglo XVI

Longitud: 6,8 km Total del Itinerario

Desnivel: 100 a 300m.

Tiempo total: 6 horas.

Dificultad: Media.



¿Qué vamos hacer?

Iremos descubriendo, observando y anotando información que nos servirá para conocer, apreciar, y valorar este espacio y el camino real de Soo.

¿Qué necesitamos ?

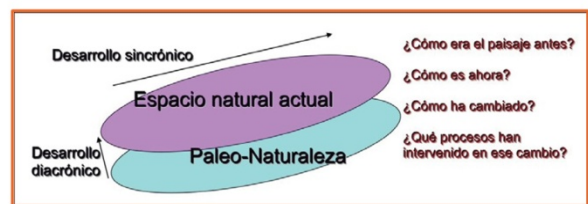
1. *Interés y atención.*

2. *Ropa y Calzado adecuado: gorra, camiseta, pantalón bajo, tenis o botas con calcetines.*

3. *Mochila pequeña con agua y comida.*

4. *Material para escribir y fotografiar (móvil).*

5. *Bolsa para recoger basura.*



IMPORTANTE: Sitúa en la mapa del itinerario los nombres y topónimos de lugares por donde pasaremos.

Saldremos del pueblo de Soo. Después de una breve explicación sobre el origen del poblado y su población (población aborígen y morisca).

Primera parada:

Observaremos Pico Colorado (206m) donde aparecieron en una especie de abrigo de su cima piezas arqueológicas ornamentales (tesorillo de calcedonias). En sus laderas podemos observar aljibes para recoger el agua de escorrentía. También podemos observar, desde este punto de inicio, la Montaña de Juan del Hierro que tiene una estación de grabados aborígenes, y los Riscos de Famara (sector el ascenso hacia la ermita de San Rafael y la Villa de Tegui).

Contesta a las siguientes preguntas:

¿Quiénes eran los majos y de dónde procedían?. ¿Cómo vivían los moriscos en el Jable y de dónde procedían?.



¿Qué tipos de figuras puedes observar en la imagen de la estación de grabados de la Montaña Juan de El Hierro?.



Panel de grabados. Mtna Juan del Hierro.

¿Cómo obtenían agua los antiguos pobladores de la isla?

¿Dirías que es el mismo lugar? ¿Por qué? Razona tu respuesta haciendo hincapié en el tipo de suelo y clima de la zona.

Cartel interpretativo sobre la agricultura en el jable. Geomorfología del entorno.
Segunda parada:

¿Reconoces los paisajes que se muestran en las siguientes imágenes?.



Contesta a las siguientes preguntas:

¿De dónde procede y cómo llega hasta aquí la arena que caracteriza a la formación de este paisaje?



¿Qué factores forman las dunas?

¿Qué tipo de especies de aves has podido visualizar en el trayecto del camino?. Señala sus nombres en cada imagen.

¿Qué tipo de especies vegetales observas a los márgenes del camino? Señala sus nombres en cada imagen.



¿Quién era Jean de Bethencourt ?

¿Qué otros yacimientos arqueológicos conoces de Lanzarote?. Explica qué tipo de yacimiento es y su funcionalidad?

Es difícil que imagines cómo debía ser un día cualquiera en la vida de un majo. Te proponemos que pongas por escrito un pequeño texto en el que reflejes tu idea de cómo debía ser su jornada. Para ello deberás elegir si se trata de un hombre o de una mujer.

¿Cómo se podrían proteger? Razona tu respuesta.

Yacimiento.

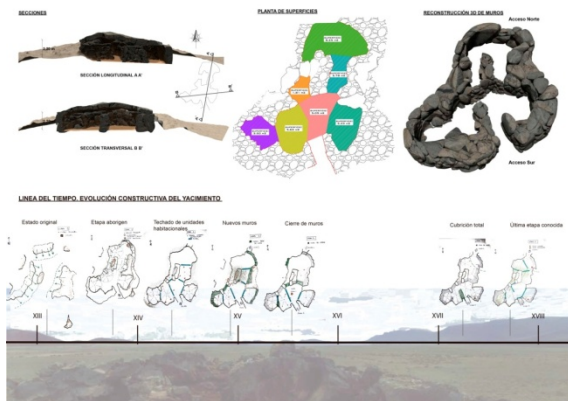
Contesta a las siguientes preguntas:

¿Por qué la peña donde se encuentra la casa honda se llama La Peña de las Cucharas?

¿Qué otras construcciones antiguas de la isla conoces, donde vivían los aborígenes en las otras islas del archipiélago?

¿Por qué tiene forma multilobular las plantas de las casas hondas de los majos?

Indica a qué tipo de cultura material corresponden los siguientes fragmentos arqueológicos.



A partir de la planta del yacimientos realiza un croquis de su posible alzado y su techumbre



Visita la web del yacimiento y a partir de las imágenes 360° indica las partes de la casa honda de La Peña de Las Cucharas.

¿Qué ocurrió con el camino real?

Pregúntale a alguno de tus familiares si recuerda historias relacionadas con las erupciones de Timanfaya. Si es así, anótalas y compártelas con el resto del aula en la jornada siguiente a la salida de campo.

siglo XV, se asentaron allí los señores de la isla, la familia Peraza-Herrera. En el plano de L. Torriani, su topónimo antiguo ya no aparece, siendo sustituido por el de Teuguisse. El poblado se asienta al pie del volcán de Guanapay, donde se realizó en la zona de Los Divisos, una excavación arqueológica, recuperándose abundante material arqueológico de época preuropea, mezclado con objetos de otros periodos históricos. Los trabajos de excavación llevados a cabo por José de León Hernández y Antonia Perera Betancourt, entre otros profesionales, han arrojado luz sobre el poblamiento en esta zona, comprobándose la reutilización del espacio. Es muy probable que debajo del trazado urbano de Teguisse actual se conserven los restos del asentamiento aborígen.

¿Por qué se dice que Lancelotto “redescubre” el archipiélago?

Hornos de Cal y Villa de Teguisse. El Señorío y la piratería.

En el último tramo del itinerario, entre la lengua de lava de Timanfaya y la Villa de Teguisse el itinerario se complica, ya que hay un desnivel importante. En este caso es más sencillo empezar este tramo desde la Villa pasando por la ermita de San Rafael hasta las laderas de los Riscos de Famara.

La Gran Aldea-Teguisse.

Su asociación con la actual Villa de Teguisse no queda clara según los datos escritos en las crónicas de la conquista. Durante el

¿Qué es una crónica? ¿ Por qué hay dos versiones?

¿Cuánto tiempo se tarda en conquistar todo el archipiélago?.

Realiza una búsqueda por la Villa de Tegui de las construcciones más antiguas e indica a quién pertenecían y qué función tenían. Compara ambos planos y explica cómo ha cambiado el trazado.



Uno de los ataques más funestos tuvo lugar en 1586, cuando habitaban la isla unas 1.500 personas. Si hubieras sido uno de estos habitantes en ese momento, un día al atardecer, probablemente estarías tomando la última modesta comida del día, para ir pronto a dormir rendido por un día de trabajo en el campo. Pero si, por alguna extraña razón, hubieras estado en la zona conocida actualmente como Los Ancones*, en aquel momento absolutamente aislada y despoblada, habrías visto cómo se empezaban a asomar en el horizonte, a lo lejos, tres barcos, que iban a poner en peligro tu vida, y la de todas las personas que te rodeaban, en cuanto cayera la noche.

Al mando de la flota estaba el “Morato Arráez”, pirata argelino tan conocido en la época, que será nombrado por Cervantes o Quevedo. Y, a sus órdenes, varios cientos de hombres dispuestos a desembarcar en esos abrigos naturales rocosos, para coger por sorpresa al señor de la isla, Agustín de Herrera. El objetivo final: hacerse con un buen botín en joyas y esclavos, incluidos hombres fuertes por los que poder obtener un buen precio, y mujeres y niñas de las

que poder abusar infinidad de veces, antes acabar con sus vidas.

Durante casi un mes, “Morato Arráez” y sus hombres sembraron de terror toda la isla, hasta que se marcharon con 200 isleños como esclavos.

Busca el callejón de la Sangre. ¿Por qué tiene este nombre?.

Después del comienzo del camino real, tras dejar el Archivo Histórico atrás pasamos frente a un conjunto de hornos de cal y por la Ermita San Rafael al otro lado.



¿Para qué servían los hornos de Cal?


Realiza un eje cronológico vertical de los ataques piráticos más importante a la Villa de Teguisse entre el siglo XVI y siglo XVII.

¿Con qué especies vegetales se hacía combustible?

¿La recolección del combustible necesario que se usaba para la quema de los hornos qué provocó en el Jable de Arriba?

La villa de Douguisse è la principal dell'isola, ove abita il Mac quis, et le genti
 de' crato se medesima cosa de' suoi casti abitate se quasi altre tanto in co'chi cui-
 nage da mesi de' due anni. In passato et s' fessero se de' se ponere se quasi
 in ogni parte e signoraggi catti da padicchi dalla parte del polo del sud, se
 la montagna di Guabapari ou' la favona della villa l'antica dalle case fero man-
 co d'un miglio. Nella parte di Tolante e l'antica del mare una lega ou' staccione
 i mesi l'ultima volta s'os chiamano la stione da vicino di detta il porto del sud
 et de' due leghe. In altre parti se spragge ou' fessono se più staccione l'una se dico
 il l'ultima volta se de' se molto la parte di quella et de' due leghe da l'una parte se
 sette da l'ultima cinque leghe et al'ultima se ha tutti questi porti se spragge in-
 que alla villa e quasi primo porto se porta fra monti traversando pramuse col-
 uate.

LA VILLA DI TEV
 GISSE DELL' ISOLA
 DI LANCAROTE.



La descrizione di questa pianta mostra
 la forma della fortezza, che è di
 figura quadrata, con quattro
 bastioni, e un cortile nel mezzo.
 La fortezza è situata sopra un
 monte, e ha una muraglia di
 mattoni, e una fossata di
 acqua dolce, che serve per
 bere, e per irrigare i campi.
 La fortezza è stata costruita
 nel 1620, e ha servito per
 molti anni, e ha visto
 molte battaglie, e ha
 sempre resistito, e ha
 sempre servito per
 la difesa dell'isola.

